

SARAYBOSNA ULUSLARARASI TÜRKİYE MAARİF VAKFI OKULLARI BURSLULUK SINAVI 2020

ÖĞRENCİLERİN DİKKATİNE!

- Sınav süresi 70 dakikadır. Hiçbir öğrenciye ek süre verilmeyecektir.
- İsim ve soy isim için ayrılan boşluğu doldurmayı unutmayınız.
- Kitapçıkta bulunan tüm soruları cevaplayınız.
- Kitapçıkta bulunan boş alanlar not alma ya da hesaplama için kullanabilirsiniz.
- Soru kitapçıkları sınav bitiminde toplanacaktır.
- Her sorunun tek bir cevabı vardır. Birden fazla işaretleme yapılan sorular yanlış olarak değerlendirilecektir.
- Yanlış cevaplar doğru cevapları etkilemeyecektir.
- Her sorunun puanı aynı ağırlıktadır.
- Cevapların cevap kağıdında ayrılan yerlere işaretlenmesi gerekmektedir. Kitapçık üzerine yapılan işaretlemeler kabul edilmeyecektir.

5.
Sınıf

Başarılar!

TÜRKİYE MAARİF VAKFI
TURKISH MAARIF FOUNDATION

Ders	Soru Sayısı	Toplam Soru Sayısı	Toplam Süre
Türkçe	5	30	70 dakika
Sosyal Bilgisi	5		
Matematik	5		
Fen Bilimleri	5		
İngilizce	5		
Mantık	5		

Adı ve Soyadı :

Sınıf Düzeyi :

Öğrenci / Başvuru ID :



TÜRKİYE MAARİF VAKFI
TURKISH MAARIF FOUNDATION

TÜRKÇE

1. Aşağıdaki deyimlerden hangisi “kılı kırk yarmak” deyimine anlamca en yakındır?

- A) Hesabını bilmek
- B) Kulağına küpe olmak
- C) Ödüyü patlamak
- D) İnce eleyip sık dokumak
- E) Rahat batmak

2. Aşağıdaki cümlelerden hangisinde ünsüz benzeşmesine uğrayan bir sözcük vardır?

- A) Bazı sabahlar geç kalkarım.
- B) Arkadaşı ile bahçede oynuyor.
- C) Sınıfın kapısını açtı.
- D) Dolabımın çekmecesini yine bozuldu.
- E) Eve doğru hızlıca yürüyordu.

3. Aşağıdaki cümlelerin hangisinde yazım yanlışı yoktur?

- A) Çocuklar parkda oynuyorlar.
- B) Eve geldimi gelmedimi bilmiyorum.
- C) Bugün Dünya kadar işim var.
- D) Sen onu niçin ara mıyorsun?
- E) Bu kalemi de mi oradan aldın?

4. “Aslında herkes dâhidir. Ama siz kalkıp bir balığı ağaca tırmanma yeteneğine göre yargıyorsanız, tüm hayatını aptal olduğuna inanarak geçirir.” demiş Albert Einstein. Gerçekten de öyle değil midir? İnsanları yetenekleri dışında değerlendirip, onları öyle yargılamak ne kadar doğru bir davranış ki?”

Yukarıdaki paragrafın ana fikri aşağıdakilerden hangisidir?

- A) Her insanın bir dahi olduğu
- B) İnsanları yeteneklerine göre değerlendirmek gerektiği
- C) Yeteneklerin zamanla azalıp bittiği
- D) İnsanları yargılamamak gerektiği
- E) Her insanın her konuda yetenekli olduğu

5. “Tilki ile kedi sohbet ediyorlarmış. Tilki durmadan ne kadar hilekâr ve kurnaz olduğunu anlatıyormuş. Söylediğine göre düşmanları onu alt edemezmiş çünkü onlardan kurtulacak bir sürü hile ve oyun bilirmiş.”

Yukarıdaki paragraf aşağıda verilen metin türlerinden hangisine aittir?

- A) Masal
- B) Hikâye
- C) Şiir
- D) Fabl
- E) Tiyatro

SOSYAL BİGİLER

6. Aşağıda verilen ülkelerden hangilerinin Bosna Hersek ile sınırı vardır?

- A) Sırbistan, Makedonya ve Karadağ
- B) Arnavutluk, Slovenya ve Hırvatistan
- C) Hırvatistan, Sırbistan ve Karadağ
- D) Sırbistan, Hırvatistan ve Arnavutluk
- E) Makedonya, Karadağ ve Hırvatistan

7. Hangisi Bosna Hersek'in başkentidir?

- A) Travnik
- B) Zenica
- C) Tešanj
- D) Bihać
- E) Saraybosna

8. Bosna'nın ilk kralı kimdir?

- A) Ban Stjepan II Kotromanić
- B) Kulin ban
- C) Stjepan Tomašević
- D) Tvrtko I Kotromanić
- E) Josip Broz Tito

9. Bosna Hersek'in en yüksek dağı aşağıdakilerden hangisidir?

- A) Maglić
- B) Zelengora
- C) Bjelašnica
- D) Visočica
- E) Igman

10. Bosna Hersek'in en büyük nehri aşağıdakilerden hangisidir?

- A) Drina
- B) Sava
- C) Neretva
- D) Bosna
- E) Una

MATEMATİK

11. Aşağıda verilen ifadenin değeri kaçtır?

$$365 \cdot [387 - 927 : (314 - 305) + 5] - 30\ 000$$

- A) 76 485
- B) 75 485
- C) 74 485
- D) 73 485
- E) 72 485

12. "5716 ve 359" sayılarının çarpım sonucu kaçtır?

- A) 852 044
- B) 952 044
- C) 1 052 044
- D) 2 052 044
- E) 3 052 044

13. Aşağıdaki eşitsizliğin çözüm kümesi hangi şıkta doğru olarak verilmiştir?

$$20\ 000 - (x - 32\ 538) < 15\ 540$$

- A) $x > 32\ 538$
- B) $x < 68\ 078$
- C) $x > 68\ 078$
- D) $x < 36\ 998$
- E) $x > 36\ 998$

14. Aşağıdaki denklemin sonucu hangi şıkta doğru olarak verilmiştir?

$$4505 : x = 17$$

- A) 465
- B) 365
- C) 265
- D) 165
- E) 65

15. "3187 kg" patates yetiştiren bir çiftçi yetiştirdiği patateslerden 56 çuvalını satmıştır. Her çuvalın içinde 28 kg patates olduğuna göre çiftçinin elinde kaç kg patates kalmıştır?

- A) 1619 kg
- B) 2619 kg
- C) 3619 kg
- D) 4755 kg
- E) 5755 kg

FEN BİLİMLERİ

16. Aşağıda verilenlerden hangisi en büyük yer üstü sularındır?

- A) Göletler
- B) Nehirler
- C) Denizler ve okyanuslar
- D) Nehirler ve denizler
- E) Göletler ve denizler

17. "Kök" ün tanımı aşağıdakilerden hangisidir?

- A) Bitkinin toprak altında bulunan bölümü
- B) Bitkinin toprak üstünden bulunan bölümü
- C) Taç yaprağı
- D) Çiçeğin bir parçası
- E) Hiçbiri

18. Hangisi fotosentez sürecinin sonunda meydana gelmektedir?

- A) Su ve karbondioksit
- B) Şeker ve su
- C) Oksijen ve su
- D) Şeker ve oksijen
- E) Sadece oksijen

19. Aşağıda verilenlerden hangisi "herbaryum" un tanımıdır?

- A) Hayvan koleksiyonu
- B) Bitki örneklerin belli bir sistem ve düzenle kurutulmasıyla oluşturulan koleksiyon
- C) Sebze örneklerin belli bir sistem ve düzenle kurutulmasıyla oluşturulan koleksiyon
- D) Hücre koleksiyonu
- E) Hepsi

20. "_____ ormanların renk değiştiren ve yere dökülen yaprakları vardır."

Yukarıdaki cümlede boş bırakılan yere hangisi gelmelidir?

- A) İğne yapraklı
- B) Savan
- C) İğne yapraklı ve yaprak dökken
- D) Tundra ve savan
- E) Yaprak dökken

İNGİLİZCE

Instruction: Choose the correct answer for the following questions.

21. How much are _____ pencils?

- A) that
- B) these
- C) this
- D) it
- E) those

22. Which one of the following is written grammatically correct?

- A) What time you do your homework?
- B) What time your homework you do?
- C) What time do you do your homework?
- D) What time are you do your homework?
- E) What time you doing your homework?

23. A: Where is Ann going?

B: _____

- A) Yes, she is.
- B) In the children's room.
- C) It's four o'clock?
- D) She is doing her homework.
- E) She's going to the children's room.

24. Mary is _____ than Ann.

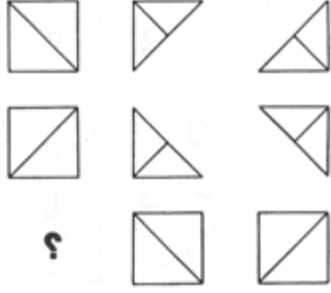
- A) old
- B) the most old
- C) oldest
- D) older
- E) more old

25. What time _____ he _____ to school?

- A) does, go
- B) do, goes
- C) does, goes
- D) do, go
- E) do, going


MANTIK

26. Soru işaretli yere aşağıda verilen şekillerden hangisi gelmelidir?



- A)
- B)
- C)
- D)
- E)

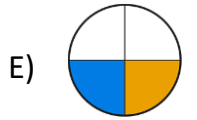
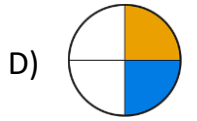
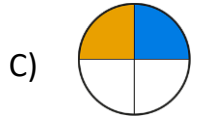
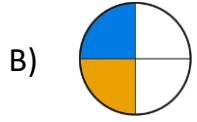
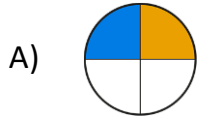
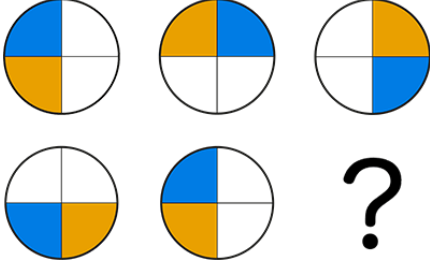
27. Soru işaretli yere aşağıda verilen harflerden hangisi gelmelidir?



- A) **P**
- B) **T**
- C) **O**
- D) **M**
- E) **R**

MANTIK

28. Soru işaretli yere aşağıda verilen şekillerden hangisi gelmelidir?



29. Tek seferde 3 adet şişe taşıyabilen Amar'ın marketten 13 şişe su alması gerekmektedir. Buna göre Amar'ın en az kaç defa markete gidip gelmesi gerekmektedir?

- A) 3
- B) 4
- C) 5
- D) 6
- E) 7

30. DIDIIDID = 49499494 ise DIIDIIDD = ?

- A) 94494499
- B) 49949944
- C) 49499494
- D) 94944949
- E) 49944949



TÜRKİYE MAARİF VAKFI
TURKISH MAARIF FOUNDATION



TÜRKİYE MAARİF VAKFI
TURKISH MAARIF FOUNDATION



MAGIS | M A A R I F E N T R A N C E E X A M I N A T I O N

Saraybosna Maarif Okulları
Maarif Primary School
Osnovna Škola Maarif

Address: Hasiba Brankovića 2A 71000 Saraybosna
Phones: +387 33 257 262
: +387 62 271 004

Website: www.maarifschools.edu.ba
Facebook: [maarifschoolsofsarajevo](https://www.facebook.com/maarifschoolsofsarajevo)
Twitter: [@maarifBA](https://twitter.com/maarifBA)