

SARAYBOSNA ULUSLARARASI TÜRKİYE MAARİF VAKFI OKULLARI BURSLULUK SINAVI 2020

ÖĞRENCİLERİN DİKKATİNE!

- Sınav süresi 80 dakikadır. Hiçbir öğrenciye ek süre verilmeyecektir.
- İsim ve soy isim için ayrılan boşluğu doldurmayı unutmayınız.
- Kitapçıkta bulunan tüm soruları cevaplayınız.
- Kitapçıkta bulunan boş alanlar not alma ya da hesaplama için kullanabilirsiniz.
- Soru kitapçıkları sınav bitiminde toplanacaktır.
- Her sorunun tek bir cevabı vardır. Birden fazla işaretleme yapılan sorular yanlış olarak değerlendirilecektir.
- Yanlış cevaplar doğru cevapları etkilemeyecektir.
- Her sorunun puanı aynı ağırlıktadır.
- Cevapların cevap kağıdında ayrılan yerlere işaretlenmesi gerekmektedir. Kitapçık üzerine yapılan işaretlemeler kabul edilmeyecektir.

7.
Sınıf

Başarılar!

Ders	Soru Sayısı	Toplam Soru Sayısı	Toplam Süre
Türkçe	6	35	80 dakika
Sosyal Bilgiler	6		
Matematik	6		
Fen Bilimleri	6		
İngilizce	6		
Mantık	5		

Adı ve Soyadı :

Sınıf Düzeyi :

Öğrenci / Başvuru ID :



TÜRKİYE MAARİF VAKFI
TURKISH MAARIF FOUNDATION

TÜRKÇE

1. Aşağıdaki cümlelerin hangisinde eylemin yapılmasının gerekliliği söz konusudur?

- A) Keşke biz de onlarla tatile gidebilseydik.
- B) İşleri bitirmek için ondan yardım isteyelim.
- C) Onu görür görmez bana haber ver.
- D) Çocuk köşesine çekilerek sessizce ağladı.
- E) Geç kalacağın zaman bize haber vermelisin.

2. Aşağıdaki cümlelerin hangisinde hal eki olan -de yanlış yazılmıştır?

- A) Veliler okulun kapısında bekliyorlar.
- B) Kedicik ağaçta mahsur kalmıştı.
- C) Bahçede kırmızı ve pembe güller var.
- D) Sevdiği sokaklarda uzun uzun yürüyüşler yaptı.
- E) Elindeki çantada ne var?

3. Aşağıdaki cümlelerin hangisinde abartma anlamı yoktur?

- A) Üflesen uçacak kadar zayıfladı.
- B) Sana geç kalma diye bin defa söyledim.
- C) Sesiniz öbür sokaktan duyuluyor.
- D) Tam on saatlik yolculuktan sonra evimize ulaşmıştık.
- E) Korkudan gözleri fal taşı gibi açıldı.

4. Aşağıdaki cümlelerin hangisinde virgül (,) kaldırılırsa cümlenin anlamı değişir?

- A) Yazar, yeni bir kitap yazmış.
- B) Kadın, polise gitti ve olayı anlattı.
- C) Adam, koşarak uzaklaştı.
- D) İnsanlar, yoğun trafikte canlarından bıkmışlardı.
- E) Kadın, evden çıkarken ışığı kapatmadı.

5. Aşağıdaki cümlelerin hangisinde öz eleştiri vardır?

- A) Arkadaşım çok üzgün görünüyordu.
- B) Onların yaşadıkları iki katlı güzel bir evdi.
- C) Kendimi kandırmamalı, ona inanmamalıyım.
- D) Son yazısında bencil insanlardan bahsetmiş.
- E) Bence sen de onun gibisin.

6. Aşağıdaki cümlelerin hangisinde altı çizili sözcük gerçek anlamıyla kullanılmıştır ?

- A) Bugün hiç tadım yok.
- B) İkisinin arasında soğuk rüzgarlar esiyordu.
- C) O derin fikirleri olan bir insandır.
- D) Dışarıda keskin bir soğuk var.
- E) Bu yol, onların evine çıkıyor.

SOSYAL BİGİLER

7. Avrupa'da en fazla yer kaplayan yeryüzü şekli aşağıdakilerden hangisidir?

- A) Dağlar
- B) Ovalar
- C) Tepeler
- D) Vadiler
- E) Platolar

8. Avrupa'nın en küçük devleti aşağıdakilerden hangisidir?

- A) Fransa
- B) İspanya
- C) Andorra
- D) Vatikan
- E) Ukrayna

9. Avrupa'nın en büyük gölü aşağıdakilerden hangisidir?

- A) Bledsko Gölü
- B) Ohridsko Gölü
- C) Ladoga Gölü
- D) Bolsena Gölü
- E) Hazar Gölü

10. Ortaçağ dönemi hangi yüzyılları kapsamaktadır?

- A) V- XV yy.
- B) V- X yy.
- C) XI - XIII yy.
- D) XIV- XV yy.
- E) VII- X yy.

11. Tarihi belgelere göre Bosna krallarının kraliyet yerleri aşağıdakilerden hangisinde doğru olarak verilmiştir?

- A) Saraybosna, Mostar, Bijeljina ve Travnik
- B) Tuzla, Banja Luka, Goražde ve Breza
- C) Bobovac, Kraljeva Sutjeska, Jajce ve Visoko
- D) Srebrenica, Višegrad, Zvornik ve Kladanj
- E) Vrhbosna, Uskoplje, Lepenica ve Trstivnica

12. Son Bosna kralı aşağıdakilerden hangisidir?

- A) Tvrtko I Kotromanić
- B) Luj XIV
- C) Stjepan Tomaš
- D) Stjepan Tomašević
- E) Stjepan Ostojić

MATEMATİK

13. α , β ve γ üçgenin açılarıdır.
 $\alpha = 42^\circ 16' 33''$ ve $\beta = 98^\circ 13' 9''$ ise γ 'nin değeri hangisidir?

- A) $\gamma = 43^\circ 30' 18''$
- B) $\gamma = 42^\circ 30' 18''$
- C) $\gamma = 41^\circ 30' 18''$
- D) $\gamma = 40^\circ 30' 18''$
- E) $\gamma = 39^\circ 30' 18''$

14. $-9,184 \cdot 2,03$ işleminin sonucu hangi seçenekte doğru olarak verilmiştir?

- A) -0,1864352
- B) -1,864352
- C) -18,64352
- D) -186,4532
- E) -1864,532

15. Aşağıdaki ifadenin değeri hangisidir?

$$1,7 \cdot (4,23 - 3 \cdot 2,14) + 2\frac{1}{5} - 1,18$$

- A) -2,703
- B) 2,703
- C) -27,03
- D) 27,03
- E) 270,3

16. Aşağıdaki denklemde yer alan x değeri hangi şıkta doğru olarak verilmiştir?

$$15: \left(x - 2\frac{3}{4} \right) = 3$$

- A) $x = 4,175$
- B) $x = 6,75$
- C) $x = 2,75$
- D) $x = 7,75$
- E) $x = 3,175$

MATEMATİK

17. $-5\frac{3}{8} \cdot x < 0,325$ eşitsizliğin çözüm kümesi aşağıdakilerden hangisidir?

- A) $x \in (0, +\infty)$
- B) $x \in \left(-\frac{13}{215}, +\infty\right)$
- C) $x \in \left(-\infty, -\frac{13}{253}\right) \cup (0, +\infty)$
- D) $x \in \left(-\infty, -\frac{13}{215}\right)$
- E) $x \in (-\infty, +\infty)$

18. Aynı işi yapan üç işçiden birincisi işini 12 günde, ikincisi 15 günde ve üçüncüsü ise 20 günde bitirebilmektedir. Bu üç işçi, birlikte çalışarak aynı işi kaç gün içinde bitirebilirler?

- A) 2 gün
- B) 3 gün
- C) 4 gün
- D) 5 gün
- E) 6 gün

FEN BİLİMLERİ

19. Aşağıdakilerden hangisinde süngerlerin tanımı doğru olarak verilmiştir?

- A) Tek hücreli organizmalardır.
- B) Çok hücreli organizmalardır.
- C) Tek hücreli veya çok hücreli olabilen organizmalardır.
- D) Hücresizlerdir.
- E) Hiçbiri.

20. Aşağıdakilerden hangisi eklem bacaklılardan değildir?

- A) Böcekler
- B) Örümcekler
- C) Solucanlar
- D) Yengeçler
- E) Kırkayaklar

21. Böceklerin vücudu kaç bölümden oluşmaktadır?

- A) Bir
- B) İki
- C) On
- D) Üç
- E) Yüz

22. Hücrenin ihtiyaç duyduğu enerjiyi üreten organel aşağıdakilerden hangisidir?

- A) Çekirdek
- B) Ribozom
- C) Lizozom
- D) Golgi cisimciği
- E) Mitokondri

23. Temel uzunluk ölçü birimi aşağıdakilerden hangisidir?

- A) Desimetre (dm)
- B) Santimetre (cm)
- C) Metre (m)
- D) Milimetre (mm)
- E) Kilometre (km)

24. 1 dm² 'ye eşit olan aşağıdakilerden hangisidir?

- A) 0.01 m²
- B) 0.0001 m²
- C) 10 m²
- D) 1000 cm²
- E) 10 mm²

İNGİLİZCE

Instruction: Choose the correct answer for the following questions.

25. I sometimes look ____ my little brother.

- A) after
- B) up
- C) with
- D) on
- E) out

26. Her parents ____ in the living room now.

- A) is sitting
- B) am sitting
- C) are sitting
- D) sit
- E) sits

27. We wanted to buy ____ postcards but there was ____ time to go shopping.

- A) any, some
- B) some, any
- C) some, no
- D) no, any
- E) any, no

28. Where ____ those shoes?

- A) do you buy
- B) did you bought
- C) you bought
- D) did you buy
- E) you buy

29. My dog ____ after a cat when a car ____ him.

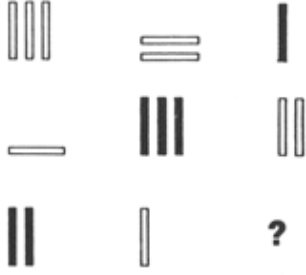
- A) is running, hits
- B) was running, hit
- C) runs, hits
- D) ran, was hitting
- E) was running, was hitting

30. Mark ____ an essay all afternoon. What ____?

- A) is writing, were you doing
- B) writes, did you do
- C) was writing, you were doing
- D) wrote, you were doing
- E) was writing, were you doing

MANTIK

31. Aşağıdaki görselde yer alan çubuklar belirli bir kurala göre dizilmiştir. Buna göre boş bırakılan soru işaretli alana aşağıdaki dilimlerden hangisi gelmelidir?



A)

B)

C)

D)

E)

32. Verilen sayı örüntüsüne göre soru işaretlerinin yerine gelmesi gereken sayı ikilisi aşağıdakilerden hangisidir?

3, 1, 0, 2, -3, 3, -6, 4, ?, ?

A) -9, 5

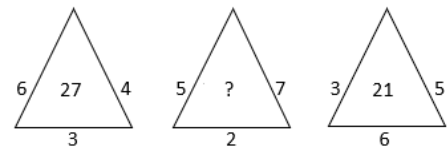
B) 1, 3

C) 0, 2

D) -3, -1

E) 0, 0

33. Soru işaretli yere aşağıdaki sayılardan hangisi gelmelidir?



A) 35

B) 37

C) 42

D) 21

E) 22

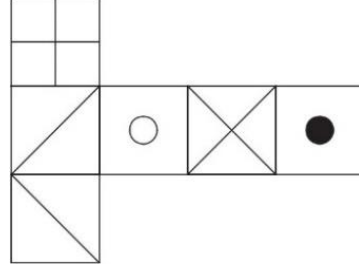
MANTIK

34. Aşağıda yer alan görselde harfler belirli bir örüntüye göre dizilmiştir. Buna göre, soru işaretli yere gelmesi gereken harf kombinasyonu aşağıdakilerden hangisidir?

DC	FE	HG
CB	ED	??
BA	DC	FE

- A) EF
- B) GF
- C) AD
- D) EB
- E) CD

35. Verilen şablon birleştirildiğinde aşağıdaki küplerden hangisini elde edilebilir?



- A)
- B)
- C)
- D)
- E)



TÜRKİYE MAARİF VAKFI
TURKISH MAARIF FOUNDATION



MAGIS | M A A R I F E N T R A N C E E X A M I N A T I O N

Saraybosna Maarif Okulları
Maarif Primary School
Osnovna Škola Maarif

Address: Hasiba Brankovića 2A 71000 Saraybosna
Phones: +387 33 257 262
: +387 62 271 004

Website: www.maarifschools.edu.ba
Facebook: [maarifschoolsofsarajevo](https://www.facebook.com/maarifschoolsofsarajevo)
Twitter: [@maarifBA](https://twitter.com/maarifBA)