

SARAYBOSNA ULUSLARARASI TÜRKİYE MAARİF VAKFI OKULLARI BURSLULUK SINAVI 2020

ÖĞRENCİLERİN DİKKATİNE!

- Sınav süresi 80 dakikadır. Hiçbir öğrenciye ek süre verilmeyecektir.
- İsim ve soy isim için ayrılan boşluğu doldurmayı unutmayınız.
- Kitapçıkta bulunan tüm soruları cevaplayınız.
- Kitapçıkta bulunan boş alanlar not alma ya da hesaplama için kullanabilirsiniz.
- Soru kitapçıkları sınav bitiminde toplanacaktır.
- Her sorunun tek bir cevabı vardır. Birden fazla işaretleme yapılan sorular yanlış olarak değerlendirilecektir.
- Yanlış cevaplar doğru cevapları etkilemeyecektir.
- Her sorunun puanı aynı ağırlıktadır.
- Cevapların cevap kağıdında ayrılan yerlere işaretlenmesi gerekmektedir. Kitapçık üzerine yapılan işaretlemeler kabul edilmeyecektir.

8.
Sınıf

Başarılar!

Ders	Soru Sayısı	Toplam Soru Sayısı	Toplam Süre
Türkçe	6	35	80 dakika
Sosyal Bilgiler	6		
Matematik	6		
Fen Bilimleri	6		
İngilizce	6		
Mantık	5		

Adı ve Soyadı :

Sınıf Düzeyi :

Öğrenci / Başvuru ID :



TÜRKİYE MAARİF VAKFI
TURKISH MAARIF FOUNDATION

TÜRKÇE

1. Aşağıdaki cümlelerden hangisinde “sıcak” sözcüğü “içten, samimi” anlamında kullanılmıştır?

- A) Sıcak hava, çiftçilerin kara kara düşünmesine sebep oluyor.
- B) Suyun sıcaklığı dayanılmaz bir hale gelmişti.
- C) Sıcak savaş artık yerini soğuk savaşa bıraktı.
- D) Bu bölgede aşırı sıcaklar hayatı olumsuz etkiliyor.
- E) Orada çok sıcak bir şekilde karşılandık.

*Sen bilmezsin, çaresizlik nasıl boğar insanı.
Yaşamak bir yerde nasıl çekilmezdir.
Tutunacak bir dal aramaktan, koşmaktan,
özlemekten
El yorulur, ayak yorulur, yürek yorulur.*

2. Yukarıdaki dörtlükte kaç tane fiilimsi vardır?

- A) 7
- B) 5
- C) 6
- D) 4
- E) 3

3. Aşağıdaki cümlelerden hangisi yüklemine yerine göre diğerlerinden farklıdır?

- A) Onur duyarız, sizinle görüşmekten.
- B) Yeşil pencereden bir gül at bana.
- C) Bu, bütün doğaya hâkim olan sessiz bir çiğlikti.
- D) Bir alev yağmurudur, gözlerinin her bakışı.
- E) Şarkısını dinleyeceksin, serin esen rüzgarların.

4. Aşağıdaki cümlelerin hangisinde bir anlatım bozukluğu vardır?

- A) Bu filmin yarım kalmasını istemiyorum.
- B) Dün okuduğu şiiri bugün tekrar yineledi.
- C) Otobüse yetişmek için yarım saat önce okuldan çıktı.
- D) O, muhakkak buraya gelecek.
- E) Şairin bu şiiri de çok güzel.

5. Aşağıdakilerden hangisi bir paragrafın giriş cümlesi olamaz?

- A) Hemen her gün yaptığımız işlerden biri de dinlenmektir.
- B) Müzik insanlara yeni bir bakış açısı kazandırır.
- C) Sanat yapıtları doğadan hareket edebilir.
- D) Hiç olmazsa günde üç dört saatimizi buna ayırırız
- E) Aydın, karşılaştığı her meseleyi inceleyen insandır.

6. Aşağıdakilerden hangisinde ünsüz benzeşmesi kuralına aykırılık nedeniyle yazım yanlışı yapılmıştır?

- A) Ağaçtan
- B) Dikkatten
- C) Sokakdan
- D) Kitaptan
- E) Dörtgen

SOSYAL BİLGİLER

7. Asya kıtasında yer alan en büyük ve en geniş plato aşağıdakilerden hangisidir?

- A) Anadolu
- B) İran Platosu
- C) Sahra Platosu
- D) Meksika Platosu
- E) Tibet

8. Afrika kıtasında bulunan en büyük ülke aşağıdakilerden hangisidir?

- A) Cezayir
- B) Fas
- C) Kenya
- D) Tanzanya
- E) Tunus

9. Amerika Birleşik Devletleri kaç eyaletten oluşmaktadır?

- A) 47
- B) 66
- C) 39
- D) 50
- E) 28

10.14 Temmuz 1789'da meydana gelen Bastille Baskını sonucunda aşağıdaki olaylardan hangisi gerçekleşmiştir?

- A) Berlin Kongresi
- B) Amerikan kolonilerinin bağımsızlık mücadelesi
- C) Fransız burjuva devrimi
- D) Jacobin diktatörlüğü
- E) Rus devrimi

11. Uluslararası güçlerin devreye girmesi ile Osmanlı Devleti hangi olaydan sonra Balkanlarda toprak kaybetmiştir?

- A) 1814/1815 Viyana Kongresi
- B) 1879 İstanbul Antlaşması
- C) 1699 Karlofça Antlaşması
- D) 1878 Berlin Kongresi
- E) 1718 Pasarofça Antlaşması

12. 1839 yılında Sultan Abdülmecit tarafından kaldırılan sistem aşağıdakilerden hangisidir?

- A) Tımarlı sipahi sistemi
- B) Vergi sistemi
- C) Devşirme sistemi
- D) Ölüm cezası
- E) Köylülük kanunu

MATEMATİK

13. Köşegen uzunluğu 8 cm olan bir karenin alanı aşağıdakilerden hangisidir?

- A) $A = 22 \text{ cm}^2$
- B) $A = 32 \text{ cm}^2$
- C) $A = 42 \text{ cm}^2$
- D) $A = 52 \text{ cm}^2$
- E) $A = 62 \text{ cm}^2$

14. Verilen işlemin sonucu aşağıdakilerden hangisidir?

$$\frac{7^{4n-1}}{49^{2n-2}}$$

- A) 7^0
- B) 7^1
- C) 7^2
- D) 7^3
- E) 7^4

15. Verilen işlemin sonucu aşağıdakilerden hangisidir?

$$\frac{\sqrt{108} - \sqrt{300} - \sqrt{48} + \sqrt{75} - 5\sqrt{3}}{2\sqrt{12}}$$

- A) 2
- B) 1
- C) 0
- D) -1
- E) -2

16. Verilen denklemin sonucu aşağıdakilerden hangisidir?

$$(x^2 - x + 1) \cdot (x^2 + x - 1)$$

- A) $x^4 - 2x^2 + 1$
- B) $x^4 - 2x^3 + 1$
- C) $x^4 - 2x + 1$
- D) $x^4 - 2x^2 - 1$
- E) $x^4 - 2x^3 - 1$

MATEMATİK

17. Sabrina oğlu için yıllık %12 faiz oranıyla 6000 TL tutarında bir yatırım yapmak istemektedir. Buna göre kaç ay sonra Sabrina'nın parası 6540 TL'ye ulaşacaktır?

- A) 7 ay sonra
- B) 8 ay sonra
- C) 9 ay sonra
- D) 10 ay sonra
- E) 11 ay sonra

18. Verilen işlemin sonucu aşağıdakilerden hangisidir?

$$(2a - 3)(2a + 3) - 4a^2, \text{ za } a = \frac{3}{7}$$

- A) -9
- B) 9
- C) 5
- D) -5
- E) 3

FEN BİLİMLERİ

19. Aşağıdakilerden hangisi “ekoloji” terimini ilk defa kullanan ünlü Alman zoologdur?

- A) Alexandar Von Humboldt
- B) Ernst Haeckel
- C) Charles Darwin
- D) Rachel Carson
- E) Hiçbiri

20. Aşağıdakilerden hangisi “biyotop” terimini tanımlar?

- A) Ekolojik bir topluluğun yaşadığı belirli bir alan
- B) Ekoloji
- C) Cansız nesnelere oluşan bir alan
- D) Biyolojinin bir dalı
- E) Hiçbiri

21. Aşağıdakilerden hangisi “ivme” terimini tanımlar?

- A) Seyahat süresi
- B) Hızın zaman içerisindeki değişimi
- C) Yolun zaman içerisindeki değişimi
- D) Başlangıç ve bitiş arasındaki hız farkı
- E) Yer değiştirme vektörü

22. Şehir şebekesine (220V) bağlanan 500 W'lık elektrikli bir ütü aşağıdaki akımlardan hangisine sahiptir?

- A) 110 000 A
- B) 55 A
- C) 2.27 A
- D) 3.3 A
- E) 4.1 A

23. Aşağıdakilerden hangisi bütün oksitlerin bileşimlerinde bulunur?

- A) Kükürt atomları
- B) Hidrojen atomları
- C) Karbon atomları
- D) Oksijen atomları
- E) Azot atomları

24. Tuzlar hangi reaksiyonla oluşur?

- A) Elektroliz
- B) Yüceltme
- C) Kristalleşme
- D) Oksidasyon
- E) Nötralizasyon

İNGİLİZCE

Instruction: Choose the correct answer for the following questions.

25. The school dance takes _____ in the gym.

- A) up
- B) off
- C) care
- D) place
- E) over

26. While I _____ my homework, my friend _____.

- A) did, was ringing
- B) was doing, ringed
- C) was doing, rang
- D) do, was ringing
- E) did, is ringing

27. The play lasts for three hours, _____?

- A) doesn't it?
- B) wasn't it?
- C) isn't it?
- D) didn't it?
- E) hasn't it?

28. How many blood groups _____ in 1909 by Karl Landsteiner?

- A) was discovered
- B) is discovered
- C) have discovered
- D) were discovered
- E) are discovered

29. A: We're going dolphin watching in Scotland. Have you ever been to Scotland?

B:

- A) I have visited New York, but I have never been to Scotland.
- B) I visited New York, but I have never been to Scotland.
- C) I visited New York, but I was never to Scotland.
- D) I have visited New York, but I had never been to Scotland.
- E) I have visited New York, but I never been to Scotland.

30. I _____ lunch, but I _____ lunch yesterday.

- A) just have had, didn't have
- B) have just had, didn't had
- C) have just had, hadn't
- D) just had, haven't had
- E) have just had, didn't have

MANTIK

31. Aşağıda yer alan görselin belirli bir dizilime göre anlamlı bir bütün oluşturacak şekilde tamamlanması gerekmektedir. Buna göre, soru işaretli yere aşağıdakilerden hangisi gelmelidir?



- A)
- B)
- C)
- D)
- E)

32. Verilen sayı örüntüsüne göre soru işaretlerinin yerine gelmesi gereken sayı ikilisi aşağıdakilerden hangisidir?

3, 1, 0, 2, -3, 3, -6, 4, ?, ?

- A) 1, 3
B) -9, 5
C) 0, 2
D) -3, -1
E) 0, 0

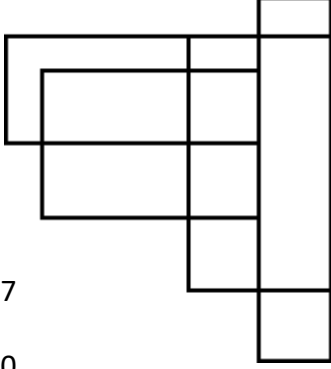
33. Aşağıda yer alan görselde harfler belirli bir örüntüye göre dizilmiştir. Buna göre, soru işaretli yere gelmesi gereken harf kombinasyonu aşağıdakilerden hangisidir?

RSTU	RTSU	UTSR
ABCD	ACBD	DCBA
LMNK	LNMK	????

- A) KNML
B) LMNM
C) LNMK
D) KMNL
E) MNKL

MANTIK

34. Aşağıda verilen şekilde yer alan toplam kare ve dikdörtgen sayısı kaçtır?









- A) 17
B) 20
C) 21
D) 23
E) 25

35. Aşağıda yer alan sayı ve semboller belirli bir örüntüye göre oluşturulmuştur. Buna göre, soru işaretli alana aşağıdakilerden hangisi gelmelidir?

$$\text{Blue Square} = \text{Red Square} \times 2$$

$$\text{Green Square} - \text{Blue Square} = \text{Red Square}$$

$$\text{Green Square} = \text{Red Square} \times ?$$

- A)  ve 
B) 
C)  ve 
D) 
E) Hiçbiri



TÜRKİYE MAARİF VAKFI
TURKISH MAARIF FOUNDATION



MAGIS | M A A R I F E N T R A N C E E X A M I N A T I O N

Saraybosna Maarif Okulları
Maarif Primary School
Osnovna Škola Maarif

Address: Hasiba Brankovića 2A 71000 Saraybosna
Phones: +387 33 257 262
: +387 62 271 004

Website: www.maarifschools.edu.ba
Facebook: [maarifschoolsofsarajevo](https://www.facebook.com/maarifschoolsofsarajevo)
Twitter: [@maarifBA](https://twitter.com/maarifBA)