

SARAYBOSNA ULUSLARARASI TÜRKİYE MAARİF VAKFI OKULLARI BURSLULUK SINAVI 2020

ÖĞRENCİLERİN DİKKATİNE!

- Sınav süresi 90 dakikadır. Hiçbir öğrenciye ek süre verilmeyecektir.
- İsim ve soy isim için ayrılan boşluğu doldurmayı unutmayınız.
- Kitapçıkta bulunan tüm soruları cevaplayınız.
- Kitapçıkta bulunan boş alanlar not alma ya da hesaplama için kullanabilirsiniz.
- Soru kitapçıkları sınav bitiminde toplanacaktır.
- Her sorunun tek bir cevabı vardır. Birden fazla işaretleme yapılan sorular yanlış olarak değerlendirilecektir.
- Yanlış cevaplar doğru cevapları etkilemeyecektir.
- Her sorunun puanı aynı ağırlıktadır.
- Cevapların cevap kağıdında ayrılan yerlere işaretlenmesi gerekmektedir. Kitapçık üzerine yapılan işaretlemeler kabul edilmeyecektir.

9.
Sınıf

Başarılar!

Ders	Soru Sayısı	Toplam Soru Sayısı	Toplam Süre
Türkçe	7	40	90 dakika
Sosyal Bilgiler	7		
Matematik	7		
Fen Bilimleri	7		
İngilizce	7		
Mantık	5		

Adı ve Soyadı :

Sınıf Düzeyi :

Öğrenci / Başvuru ID :



TÜRKİYE MAARİF VAKFI
TURKISH MAARIF FOUNDATION

TÜRKÇE

1. Aşağıdaki cümlelerden hangisinde “sıcak” sözcüğü “içten, samimi” anlamında kullanılmıştır?

- A) Sıcak hava, çiftçilerin kara kara düşünmesine sebep oluyor.
- B) Orada çok sıcak bir şekilde karşılandık.
- C) Suyun sıcaklığı dayanılmaz bir hale gelmişti.
- D) Bu bölgede aşırı sıcaklar hayatı olumsuz etkiliyor.
- E) Sıcak savaş artık yerini soğuk savaşa bıraktı.

Sen bilmezsin, çaresizlik nasıl boğar insanı.

Yaşamak bir yerde nasıl çekilmezdir.

Tutunacak bir dal aramaktan, koşmaktan, özlemekten

El yorulur, ayak yorulur, yürek yorulur.

2. Yukarıdaki dörtlükte kaç tane fiilimsi vardır?

- A) 7
- B) 6
- C) 5
- D) 4
- E) 3

3. Aşağıdakilerden hangisinde ünsüz benzeşmesi kuralına aykırılık nedeniyle yazım yanlışı yapılmıştır?

- A) Dikkatten
- B) Ağaçtan
- C) Dörtgen
- D) Kitaptan
- E) Sokaktan

4. Aşağıdaki cümlelerden hangisi yüklem yerine göre diğerlerinden farklıdır?

- A) Onur duyarız, sizinle görüşmekten.
- B) Yeşil pencereden bir gül at bana.
- C) Bir alev yağmurudur, gözlerinin her bakışı.
- D) Bu, bütün doğaya hakim olan sessiz bir çığlıktı.
- E) Şarkısını dinleyeceksin, serin esen rüzgarların.

TÜRKÇE

5. Aşağıdaki cümlelerin hangisinde bir anlatım bozukluğu vardır?

- A) Dün okuduğu şiiri bugün tekrar yineledi.
- B) Otobüse yetişmek için yarım saat önce okuldan çıktı.
- C) O, muhakkak buraya gelecek.
- D) Bu filmin yarım kalmasını istemiyorum.
- E) Şairin bu şiiri de çok güzel.

6. Aşağıdakilerden hangisi bir paragrafın giriş cümlesi olamaz?

- A) Müzik insanlara yeni bir bakış açısı kazandırır.
- B) Hemen her gün yaptığımız işlerden biri de dinlenmektir.
- C) Hiç olmazsa günde üç dört saatimizi buna ayırırız.
- D) Sanat yapıtları doğadan hareket edebilir.
- E) Aydın, karşılaştığı her meseleyi inceleyen insandır.

7. Aşağıdaki cümlelerin hangisinde sebep - sonuç ilişkisi vardır?

- A) Tehlikeyi farkedince hemen kaçtı.
- B) Bu soğuk havada daha kalın giyinmeliydim.
- C) Sınavda heyecanlandığı için bazı soruları yapamadı.
- D) Bu çocuğun günden güne huyu değişiyor.
- E) Borçlarından kurtulmak amacıyla evini sattı.

SOSYAL BİLGİLER

8. Bosna Hersek'te bulunan en büyük sulak alan aşağıdakilerden hangisidir?

- A) Bardača
- B) Hutovo blato
- C) Jelim
- D) Škrka
- E) Svitava

9. Bosna Hersek'in yeryüzü şekilleri aşağıdakilerden hangisinde doğru olarak verilmiştir?

- A) Peripanon Bosna, Dağ havzası ve Aşağı Hersek
- B) Una-Sana bölgesi, Podrinje ve Hersek
- C) Saraybosna bölgesi, Zenica-doboj bölgesi ve Yüksek karst bölgesi
- D) Kuzey Bosna, Orta Bosna ve Güney Hersek
- E) Yüksek karst bölgesi, Akdeniz bölgesi ve Dağlık bölge

10. Bosna Hersek'in tarıma en uygun bölgesi aşağıdakilerden hangisidir?

- A) Dağ havzası bölgesi
- B) Dağlık tarım bölgesi
- C) Ova tarım bölgesi
- D) Alt Akdeniz bölgesi
- E) Kalkerli bölge

11. I. Dünya savaşın sona ermesiyle birlikte siyasi sahnedeki çekilen dört büyük imparatorluk aşağıdakilerden hangisinde doğru olarak verilmiştir?

- A) İngiliz İmparatorluğu, Alman İmparatorluğu, Fransız İmparatorluğu, İtalyan İmparatorluğu;
- B) Osmanlı İmparatorluğu, Alman İmparatorluğu, Rus İmparatorluğu, Avusturya-Macaristan İmparatorluğu;
- C) İngiliz İmparatorluğu, Rus İmparatorluğu, Avusturya-Macaristan İmparatorluğu, Fransız İmparatorluğu;
- D) Japon İmparatorluğu, Osmanlı İmparatorluğu, Rus İmparatorluğu, Alman İmparatorluğu;
- E) Avusturya-Macaristan İmparatorluğu, Alman İmparatorluğu, İtalyan İmparatorluğu, Osmanlı İmparatorluğu;

12. II. Dünya Savaşı'nın tarihi ve başlamasına sebep olan olay aşağıdakilerden hangisinde doğru olarak verilmiştir?

- A) 1 Eylül 1938'te, Almanya'nın Fransa'ya saldırması
- B) 1 Eylül 1939'da Almanya'nın Polonya'ya saldırması
- C) 1 Eylül 1940'ta, Almanya'nın Rusya'ya saldırması
- D) 1 Eylül 1941'de, Almanya'nın Yugoslavya Krallığı'na saldırması
- E) 1 Eylül 1942'de, Almanya'nın Türkiye'ye saldırması

SOSYAL BİLGİLER

13. II. Dünya savaşı hangi ülkenin teslim olması ile sona ermiştir?

- A) İtalya
- B) Almanya
- C) Büyük Britanya
- D) Japonya
- E) ABD

14. II. Dünya Savaşı'nın ardından dünya ülkeleri devletler arası kalıcı barışı sağlamak amacıyla aşağıdakilerden hangisini kurmuştur?

- A) Ülkeler Konseyi
- B) Avrupa Ülkeleri Konseyi
- C) Birleşmiş Milletler
- D) Barışçıl Ülkeler Örgütü
- E) Üçüncü Dünya Ülkeleri Örgütü

MATEMATİK

15. Verilen kesirin en sade hali aşağıdakilerden hangisidir?

$$\frac{x-y}{x^2-y^2}$$

- A) xy
 B) $\frac{1}{x+y}$
 C) $\frac{1}{x-y}$
 D) $\frac{x-y}{x}$
 E) $\frac{x+y}{x}$

16. A ve B noktaları arasındaki mesafe aşağıdakilerden hangisinde doğru olarak verilmiştir?

A (-3,3) ve B (5,-2).

- A) $\sqrt{17}$
 B) $\sqrt{29}$
 C) $\sqrt{35}$
 D) $\sqrt{41}$
 E) $\sqrt{89}$

17. Verilen denklemin sonucu aşağıdakilerden hangisidir?

$$(x^2 + xy + y^2 + 1) \cdot (x + y)$$

- A) $x^3 + 2xy + x^2 + x^2y + y^3 + y - x$
 B) $x^2 + 2xy^3 + 2x^3y + y^2 + x + y$
 C) $x^3 + 2x^2y + 2xy^2 + y^3 + x + y$
 D) $x^5 + 3x^2y + x2y^2 + y^3 + x + y$
 E) $x^3 + 2y^2 + 2x^2 + y^4 + x + y$

18. Verilen işlemin sonucu aşağıdakilerden hangisidir?

$$\left[\left(1 - \frac{x-y}{x+y} \right) : \left(1 + \frac{x-y}{x+y} \right) \right] \cdot \frac{x^2 - xy}{xy - y^2}$$

- A) 17
 B) 16
 C) 18
 D) -1
 E) 1

MATEMATİK

19. Okul bahçesindeki çimleri biçmesi gereken iki işçi birlikte çalışırlarsa işi 4 saatte bitirmektedirler. İşçilerden biri işi bıraktığında diğer işçi kalan işi 9 saat içinde bitirdiğine göre her bir işçinin çimleri tek başına biçebilmesi için gereken süre ne kadardır?

<u>Birinci İşçi</u>	<u>İkinci İşçi</u>
A) 7 saat	15 saat
B) 5 saat	11 saat
C) 6 saat	10 saat
D) 7 saat	14 saat
E) 6 saat	12 saat

20. $\sqrt{3} * \sqrt{2}$ işleminin sonucunun yaklaşık değeri aşağıdakilerden hangidir?

- A) 2.44
- B) 2.39
- C) 2.45
- D) 2.40
- E) 2.41

$$3a + 4y = 57$$

$$3a - 4y = 9$$

21. denkleminin çözüm kümesi aşağıdakilerden hangisidir?

- A) $a=6; y=11$
- B) $a=12; y=5$
- C) $a=11; y=6$
- D) $a=10; y=1$
- E) $a=1; y=10$

FEN BİLİMLERİ

22. "Mayoz bölünme sonucunda _____ oluşur."

Yukarıda verilen cümlelerin doğru bir şekilde tamamlanabilmesi için boşluğa aşağıdakilerden hangisi gelmelidir?

- A) iki haploid yavru hücresi
- B) dört haploid yavru hücresi
- C) iki diploid yavru hücresi
- D) dört diploid yavru hücresi
- E) yukarıdakilerin hiçbiri

23. Prostat teriminin anlamı aşağıdakilerden hangisinde doğru olarak verilmiştir?

- A) Erkek üreme sisteminin bir parçası
- B) Sperm üreticisi
- C) Dişi üreme sisteminin bir parçası
- D) Yumurta üreticisi
- E) Bitkilerin bir kısmı

24. İki elektron arasında oluşan bağ ile ilgili aşağıdakilerden hangisi doğrudur?

- A) Çekici güçtür.
- B) Kuvvet uygulanmaz.
- C) Çekici ve itici güç bir güçtür.
- D) Elektriksel olarak nötr bir kuvvettir.
- E) İtici bir kuvvettir.

25. Bir devredeki direncin üç kat artırılması durumunda devredeki elektrik akımıyla ilgili olarak aşağıdakilerden hangisi gerçekleşir?

- A) Üç kat artar.
- B) Üç kat azalır.
- C) Değişmez.
- D) İki kat artar.
- E) İki kat azalır.

26. Aşağıda verilenlerden hangisi tuz değildir?

- A) NaCl
- B) NH₃
- C) NH₄Cl
- D) CuSO₄
- E) CaCO₃

27. Potasyum sülfatın formülü aşağıdakilerden hangisidir?

- A) K₂SO₄
- B) KCl
- C) KMnO₄
- D) KOH
- E) K₃PO₄

28. Bir alüminyum atomunda 14 nötron varsa ve atom numarası 13 ise bu atomun elektron sayısı kaçtır?

- A) 12
- B) 18
- C) 27
- D) 13
- E) 1

İNGİLİZCE

Instruction: Choose the correct answer for the following questions.

29. My parents make me _____ my room every weekend.

- A) tidying
- B) tidies
- C) to tidy
- D) tidy
- E) tidied

30. He hasn't phoned me _____ two weeks.

- A) since
- B) for
- C) until
- D) then
- E) from

31. _____ it's cold and windy, it's still a great place to visit.

- A) Despite
- B) However
- C) Although
- D) In spite of
- E) While

32. At school, we _____ exams for a week now. So far, I _____ Maths, French and English.

- A) have been doing, have had
- B) have done, had
- C) did, have been having
- D) have done, had
- E) were doing, have had

33. On Sunday, we _____ our local park all day.

- A) will have clean
- B) cleaning
- C) cleans
- D) will be cleaned
- E) will be cleaning

34. Sarah: You cooked some food for your friend but she didn't turn up.

Ann: I _____ the food.

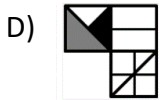
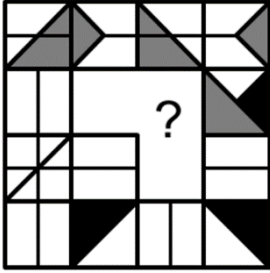
- A) should have cooked
- B) needn't have cooked
- C) must have cooked
- D) mustn't have cooked
- E) could have cooked

35. When we _____ back home, he _____ to work.

- A) come, already went
- B) have come, has already gone
- C) came, has already gone
- D) came, had already gone
- E) have been coming, went

MANTIK

36. Aşağıda yer alan görseldeki şekiller belirli bir örüntüye göre dizilmiştir. Buna göre, soru işaretli yere gelmesi gereken şekil aşağıdakilerden hangisidir?



37. Bir arkadaş grubu kedileriyle birlikte bir kafede buluşmuştur. Kafede toplam 22 baş ve 72 ayak bulunduğuna göre kafede kaç insan ve kaç kedi bulunmaktadır?

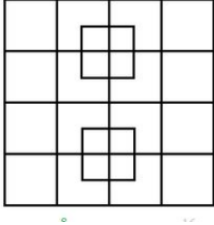
- A) 4 insan ve 18 kedi
- B) 6 insan ve 16 kedi
- C) 7 insan ve 15 kedi
- D) 8 insan ve 14 kedi
- E) 9 insan ve 13 kedi

38. HCAEP = PEACH dönüşümüne göre 46251 =? soru işareti yerine gelmesi gereken sayı aşağıdakilerden hangisidir?

- A) 25641
- B) 26451
- C) 12654
- D) 51462
- E) 15264

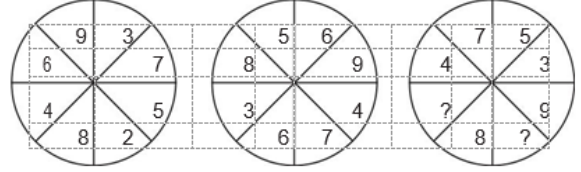
MANTIK

39. Aşağıda verilen şekilde kaç tane kare bulunmaktadır?



- A) 42
- B) 40
- C) 36
- D) 32
- E) 28

40. Aşağıda yer alan görseldeki sayılar belirli bir örüntüye göre dizilmiştir. Buna göre, soru işaretli yerlere gelmesi gereken sayı ikilisi/çifti aşağıdakilerden hangisidir?



- A) 4 ve 2
- B) 6 ve 1
- C) 10 ve 6
- D) 5 ve 9
- E) 4 ve 8



TÜRKİYE MAARİF VAKFI
TURKISH MAARIF FOUNDATION



TÜRKİYE MAARİF VAKFI
TURKISH MAARIF FOUNDATION



TÜRKİYE MAARİF VAKFI
TURKISH MAARIF FOUNDATION



MAGIS | M A A R I F E N T R A N C E E X A M I N A T I O N

Saraybosna Maarif Okulları
Maarif Primary School
Osnovna Škola Maarif

Address: Hasiba Brankovića 2A 71000 Saraybosna
Phones: +387 33 257 262
: +387 62 271 004

Website: www.maarifschools.edu.ba
Facebook: [maarifschoolsofsarajevo](https://www.facebook.com/maarifschoolsofsarajevo)
Twitter: [@maarifBA](https://twitter.com/maarifBA)