

**INTERNATIONAL MAARIF SCHOOLS OF SARAJEVO  
TEST ZA STIPENDIJU 2020****UPUTSTVO**

- Ukupno vrijeme predviđeno za ovaj test je 70 minuta. Molimo vas da na vrijeme završite test. Dodatno vrijeme neće biti obezbijeđeno niti jednom učeniku.
- Molimo vas da ne zaboravite napisati vaše ime i prezime.
- Morate pokušati odgovoriti na sva pitanja koja se nalaze u ovoj knjižici.
- Prazna polja u ovoj knjižici mogu biti korištena za pisanje i računanje, knjižice se mogu pokupiti na kraju testa.
- Svako pitanje ima samo jedan tačan odgovor. Ukoliko označite više od jedne ponuđene opcije, odgovor će se smatrati pogrešnim. Označite svoje odgovore na posebnom obrascu za odgovore. Oznake u knjižicama neće biti prihvaćene.

**Razred  
4****Želimo vam mnogo sreće!**

| Predmet               | Broj Pitanja | Sveukupan Broj Pitanja | Trajanje Ispita  |
|-----------------------|--------------|------------------------|------------------|
| Bosanski Jezik        | 5            | <b>30</b>              | <b>70 minuta</b> |
| Društvo               | 5            |                        |                  |
| Matematika            | 5            |                        |                  |
| Priroda               | 5            |                        |                  |
| Engleski Jezik        | 5            |                        |                  |
| Logičko Zaključivanje | 5            |                        |                  |

Ime i Prezime : .....

Razred / Odjeljenje : .....

Broj Učenika / Kandidata : .....



**TÜRKİYE MAARİF VAKFI**  
TURKISH MAARIF FOUNDATION

## BOSANSKI JEZIK

**1. Imenice koje označavaju zbir ili skup istih predmeta ili bića zovu se:**

- A) vlastite imenice
- B) zajedničke imenice
- C) zbirne imenice
- D) gradivne imenice

**2. Zaokruži pravilno napisanu rečenicu.**

- A) Harisov i Esmin rođak je poznati sarajevski slikar.
- B) Harisov i esmin rođak je poznati Sarajevski slikar.
- C) Harisov i Esmin rođak je poznati Sarajevski slikar.
- D) harisov i esmin rođak je poznati sarajevski slikar.

**3. Zamjenice koje označavaju "čije je nešto" ili "čiji je ko" nazivamo:**

- A) lične zamjenice
- B) prisvojne zamjenice
- C) opisni pridjevi
- D) prisvojni pridjevi

**4. Brojevi su riječi kojima se označava količina jedinki i količinski odnosi. Brojevi mogu biti:**

- A) vlastiti i zajednički
- B) opisni i prisvojni
- C) zbirni i gradivni
- D) glavni (osnovni) i redni

**5. Filmovi u kojima nema zvuka, šumova i tonova zovu se:**

- A) dokumentarni filmovi
- B) animirani filmovi
- C) nijemi filmovi
- D) zvučni filmovi

## DRUŠTVO

**6. Ambulante, bolnice i domovi zdravlja su:**

- A) kulturne ustanove
- B) prosvjetne ustanove
- C) privatne ustanove
- D) zdravstvene ustanove

**7. Ratarstvo, cvjećarstvo i voćarstvo pripadaju:**

- A) rudarstvu
- B) poljoprivredi
- C) industriji
- D) turizmu

**8. Srednje visoke planine su planine:**

- A) do 500 metara
- B) od 500 do 1000 metara
- C) od 1000 do 2000 metara
- D) preko 2000 metara

**9. Brežuljci, brda i planine pripadaju:**

- A) ravnicama
- B) uzvišenjima
- C) udubljenjima
- D) ispupčenjima

**10. Vijek ili stoljeće je period od:**

- A) 100 godina
- B) 10 godina
- C) 150 godina
- D) 1000 godina

TÜRKİYE MAARİF VAKFI  
TURKISH MAARIF FOUNDATION

## MATEMATIKA

11. Kojem broju odgovara rimski broj DCCCXLVI?

- A) 936
- B) 846
- C) 966
- D) 866

12. Ena je pročitala knjigu od 227 stranica za tri dana. Prvi dan je pročitala 105, a drugi dan 77 stranica. Koliko je stranica pročitala treći dan?

- A) 45
- B) 50
- C) 58
- D) 60

13. Koji broj ćemo dobiti ako od zbira brojeva 376 i 494 oduzmemo proizvod brojeva 67 i 7?

- A) 810
- B) 944
- C) 870
- D) 401

14. U skladištu su bile 33 kutije i u svakoj po 25 kg šljiva. Koliko je bilo ukupno kilograma šljiva u tim kutijama?

- A) 820
- B) 825
- C) 830
- D) 835

15. Polovina broja 748 je:

- A) 370
- B) 372
- C) 374
- D) 376

## PRIRODA

**16. Koliko je potrebno Zemlji za jedan obilazak oko Sunca?**

- A) 364 dana
- B) 365 dana
- C) 366 dana
- D) 367 dana

**17. Pojava munje u prirodi je:**

- A) svjetlosna pojava
- B) magnetna pojava
- C) električna pojava
- D) vještačka pojava

**18. Kako se zove vazdušni omotač planete Zemlje?**

- A) biosfera
- B) hidrosfera
- C) termosfera
- D) atmosfera

**19. Na osnovu dužine trajanja života biljke dijelimo na:**

- A) dvogodišnje i trogodišnje
- B) jednogodišnje i dvogodišnje
- C) jednogodišnje i višegodišnje
- D) dvogodišnje i višegodišnje

**20. Svi sistemi organa povezani su u jednu cjelinu koju nazivamo:**

- A) čovjekov organizam
- B) ljudski organi
- C) ljudski mehanizam
- D) čovjekov organ

TÜRKİYE MAARİF VAKFI  
TURKISH MAARIF FOUNDATION

## ENGLISKI JEZIK

**Instruction:** Choose the correct answer for the following questions.

**21. Amir: How old is your sister?**

**Emina:** .....

- A) He is ten years old.
- B) She is at school.
- C) She is twelve years old.
- D) Her surname is Click.

**22. Which one of the following is written grammatically correct?**

- A) My mother like making cakes.
- B) My brother is playing computer games.
- C) My father liking playing football.
- D) My sister doing her homework.

**23. I have breakfast \_\_\_\_\_.**

- A) at noon
- B) in the evening
- C) in the afternoon
- D) in the morning

**24. My best friend \_\_\_\_\_ a parrot.**


- A) has got
- B) is got
- C) haves got
- D) have got

**25. A vet can \_\_\_\_\_.**

- A) help a pet
- B) fix a tyre
- C) put out a fire
- D) fly a jet

## LOGIČKO ZAKLJUČIVANJE

26. Koliko je trouglova na slici?



- A) 17
- B) 27
- C) 28
- D) 16

27. Seljak ima deset krava. Uginu sve osim njih šest. Koliko ih je ostalo?

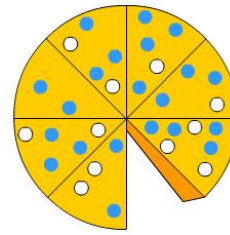
- A) četiri
- B) nijedna
- C) deset
- D) šest



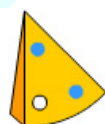

28. Koji broj dolazi sljedeći?

1 – 1 – 2 – 3 – 5 – 8 – 13 – ?

- A) 8
- B) 21
- C) 13
- D) 26

29. Nastavi niz.



- A) 
- B) 
- C) 
- D) 

30. Pingvini žive na:

- A) Južnom polu
- B) Sjevernom polu
- C) Himalajima
- D) Sibiru





**TÜRKİYE MAARİF VAKFI**  
TURKISH MAARIF FOUNDATION



**TÜRKİYE MAARİF VAKFI**  
TURKISH MAARIF FOUNDATION



**TÜRKİYE MAARİF VAKFI**  
TURKISH MAARIF FOUNDATION



# MAGIS | M A A R I F E N T R A N C E E X A M I N A T I O N

Saraybosna Maarif Okulları  
Maarif Primary School  
Osnovna Škola Maarif

Address: Hasiba Brankovića 2A 71000 Saraybosna  
Phones: +387 33 257 262  
: +387 62 271 004

Website: [www.maarifschools.edu.ba](http://www.maarifschools.edu.ba)  
Facebook: [maarifschoolsofsarajevo](https://www.facebook.com/maarifschoolsofsarajevo)  
Twitter: [@maarifBA](https://twitter.com/maarifBA)