

**INTERNATIONAL MAARIF SCHOOLS OF SARAJEVO
TEST ZA STIPENDIJU 2020****UPUTSTVO**

- Ukupno vrijeme predviđeno za ovaj test je 70 minuta. Molimo vas da na vrijeme završite test. Dodatno vrijeme neće biti obezbijeđeno niti jednom učeniku.
- Molimo vas da ne zaboravite napisati vaše ime i prezime.
- Morate pokušati odgovoriti na sva pitanja koja se nalaze u ovoj knjižici.
- Prazna polja u ovoj knjižici mogu biti korištena za pisanje i računanje, knjižice se mogu pokupiti na kraju testa.
- Svako pitanje ima samo jedan tačan odgovor. Ukoliko označite više od jedne ponuđene opcije, odgovor će se smatrati pogrešnim. Označite svoje odgovore na posebnom obrascu za odgovore. Oznake u knjižicama neće biti prihvaćene.

**Razred
5****Želimo vam mnogo sreće!**

Predmet	Broj Pitanja	Sveukupan Broj Pitanja	Trajanje Ispita
Bosanski Jezik	5	30	70 minuta
Društvene Nauke	5		
Matematika	5		
Prirodne Nauke	5		
Engleski Jezik	5		
Logičko Zaključivanje	5		

Ime i Prezime :**Razred / Odjeljenje** :**Broj Učenika / Kandidata** :



TÜRKİYE MAARİF VAKFI
TURKISH MAARIF FOUNDATION

BOSANSKI JEZIK

1. Pjesmu "Jesen u gradu" napisao je:

- A) Grigor Vitez
- B) Dobriša Cesarić
- C) Enes Kišević
- D) Ismet Bekrić
- E) Šukrija Pandžo

2. Koji od navedenih opisnih pridjeva ima oblik komparativa?

- A) najjači
- B) vrijedan
- C) sporiji
- D) najveći
- E) jasan

3. Imenice: *lišće, granje i trnje* možemo svrstati u:

- A) gradivne
- B) apstraktne
- C) vlastite
- D) zajedničke
- E) zbirne

4. Marljivi učenik napisao je pet rečenica.

Koja je riječ u službi subjekta u navedenoj rečenici?

- A) Marljivi
- B) učenik
- C) napisao
- D) pet
- E) rečenica

5. Mama je napravila ukusne kolače.

U koju vrstu riječi ubrajamo riječ *kolače* u navedenoj rečenici?

- A) glagole
- B) zamjenice
- C) pridjeve
- D) imenice
- E) brojeve

DRUŠTVENE NAUKE

6. Sa kojim državama graniči Bosna i Hercegovina?

- A) Srbija, Makedonija i Crna Gora
- B) Albanija, Slovenija i Hrvatska
- C) Hrvatskom, Srbijom i Crnom Gorom
- D) Srbija, Hrvatska i Albanija
- E) Makedonija, Crna Gora i Hrvatska

7. Koji je glavni grad Bosne i Hercegovine?

- A) Travnik
- B) Zenica
- C) Tešanj
- D) Bihać
- E) Sarajevo

8. Ko je bio prvi bosanski kralj?

- A) Ban Stjepan II Kotromanić
- B) Kulin ban
- C) Stjepan Tomašević
- D) Tvrtko I Kotromanić
- E) Josip Broz Tito

9. Koja je najviša planina u Bosni i Hercegovini?

- A) Maglić
- B) Zelengora
- C) Bjelašnica
- D) Visočica
- E) Igman

10. Koja je najveća rijeka Bosne i Hercegovine?

- A) Drina
- B) Sava
- C) Neretva
- D) Bosna
- E) Una

MATEMATIKA**11. Izračunaj vrijednost izraza**

$$365 \cdot [387 - 927 : (314 - 305) + 5] - 30\,000$$

- A) 76 485
- B) 75 485
- C) 74 485
- D) 73 485
- E) 72 485

12. Proizvod brojeva 5716 i 359 je:

- A) 852 044
- B) 952 044
- C) 1 052 044
- D) 2 052 044
- E) 3 052 044

13. Riješi nejednačinu

$$20\,000 - (x - 32\,538) < 15\,540$$

- A) $x > 32\,538$
- B) $x < 68\,078$
- C) $x > 68\,078$
- D) $x < 36\,998$
- E) $x > 36\,998$

14. Riješi jednačinu

$$4505 : x = 17$$

- A) 465
- B) 365
- C) 265
- D) 165
- E) 65

15. Poljoprivrednik je proizveo 3 187 kg krompira. Prodao je 56 vreća. U svakoj vreći bilo je 28 kg krompira. Koliko mu je kg krompira ostalo?

- A) 1 619 kg
- B) 2 619 kg
- C) 3 619 kg
- D) 4 755 kg
- E) 5 755 kg

PRIRODNE NAUKE

16. Najveće vodene životne zajednice su:

- A) bare
- B) rijeke
- C) mora i okeani
- D) rijeke i mora
- E) bare i mora

17. Korijen je:

- A) podzemni dio biljke
- B) nadzemni dio biljke
- C) sinonim za latice
- D) dio cvijeta
- E) ništa od navedenog

18. Procesom fotosinteze nastaje:

- A) voda i ugljendioksid
- B) šećer i voda
- C) kisik i voda
- D) šećer i kisik
- E) samo kisik

19. Šta je herbarij?

- A) kolekcija životinja
- B) kolekcija presovanih, osušenih biljaka sa označenim karakteristikama biljke
- C) kolekcija presovanog, osušenog povrća sa označenim karakteristikama povrća
- D) kolekcija ćelija
- E) sve navedeno

20. _____ imaju listove koji mijenjaju boju i padaju na zemlju.

- A) Četinarske šume
- B) Savane
- C) Četinarske i listopadne šume
- D) Tundre i savane
- E) Listopadne šume

ENGLISKI JEZIK

Instruction: Choose the correct answer for the following questions.

21. How much are _____ pencils?

- A) that
- B) these
- C) this
- D) it
- E) those

22. Which one of the following is written grammatically correct?

- A) What time you do your homework?
- B) What time your homework you do?
- C) What time do you do your homework?
- D) What time are you do your homework?
- E) What time you doing your homework?

23. A: Where is Ann going?

B: _____

- A) Yes, she is.
- B) In the children's room.
- C) It's four o'clock?
- D) She is doing her homework.
- E) She's going to the children's room.

24. Mary is _____ than Ann.


- A) old
- B) the most old
- C) oldest
- D) older
- E) more old

25. What time _____ he _____ to school?


- A) does, go
- B) do, goes
- C) does, goes
- D) do, go
- E) do, going

LOGIČKO ZAKLJUČIVANJE

26. Koji oblik nedostaje?



27. Odaberite ispravno slovo umjesto upitnika.



A) **P**

B) **T**

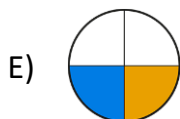
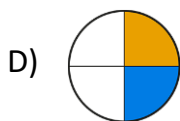
C) **O**

D) **M**

E) **R**

LOGIČKO ZAKLJUČIVANJE

28. Izaberi figuru koja nedostaje.



29. Amar treba kupiti 13 flaša vode u radnji. Može ponijeti 3 flaše istovremeno. Koliko minimalno puta Amar treba otići u radnju po vodu?

- A) 3
- B) 4
- C) 5
- D) 6
- E) 7

30. DIDIIDID za broj 49499494 je isto što i DIIDIIDD za koji broj?

- A) 94494499
- B) 49949944
- C) 49499494
- D) 94944949
- E) 49944949



TÜRKİYE MAARİF VAKFI
TURKISH MAARIF FOUNDATION



TÜRKİYE MAARİF VAKFI
TURKISH MAARIF FOUNDATION



MAGIS | M A A R I F E N T R A N C E E X A M I N A T I O N

Saraybosna Maarif Okulları
Maarif Primary School
Osnovna Škola Maarif

Address: Hasiba Brankovića 2A 71000 Saraybosna
Phones: +387 33 257 262
: +387 62 271 004

Website: www.maarifschools.edu.ba
Facebook: [maarifschoolsofsarajevo](https://www.facebook.com/maarifschoolsofsarajevo)
Twitter: [@maarifBA](https://twitter.com/maarifBA)